

Hallo hiker!

Om deze digitale hike te voltooien, moet je op zoek naar 5 codes. De opdrachten die erbij horen verschillen in lengte en moeilijkheidsgraad. Kom je er écht niet uit? Dan kun je je staf om een hint vragen, maar niet vaker dan 3x in totaal.

De codes vul je één voor één in op deze site:

<https://forms.gle/YdjHNMbiheiJP77a7>

Heel veel plezier bij deze digitale hike!



CODE 1

1. Om achter de eerste code te komen, ga je in Google Maps naar dit startpunt:

51.65216399742833, 5.957505057697099

Zet Google Street View aan om de (meeste) vragen te kunnen beantwoorden.

2. Vanuit hier vertrek je in zuidwestelijke richting. Steek het water over. Welke kapel vind je aan je rechterhand?

Nepomu(k)kapel

3. Sla bij de T-splitsing rechtaf en vervolg de weg tot je Boxmeer uit loopt. Welk bedrijf ligt er nu links achter je?

Nut(r)eco

4. Vervolg de weg tot je op een kruising staat. Loop richting het westen.
5. Stop zodra je Boxmeer weer in loopt. Hoe heet de straat aan je rechterhand?

Stokstr(a)atje

6. Ga rechtdoor tot je bij het politiebureau bent. Welk bedrijf zit tegenwoordig op die plek?

Laara(k)kers

7. Ga nu twee keer rechtsaf.
Hoe het tankstation aan de rechtekant van de weg?

Sh(e)ll

8. Ga bij de rotonde rechtdoor.
9. Ga bij de volgende rotonde linksaf.
10. Ga bij de volgende rotonde in de richting van het ziekenhuis.
Hoeveel vlaggen staan er bij de Rabobank in de voortuin?

D(r)ie

11. Ga op deze rotonde rechtsaf.
Je haalt nu een vrachtwagen in. Van welk bedrijf is deze vrachtwagen?

(S)ligro

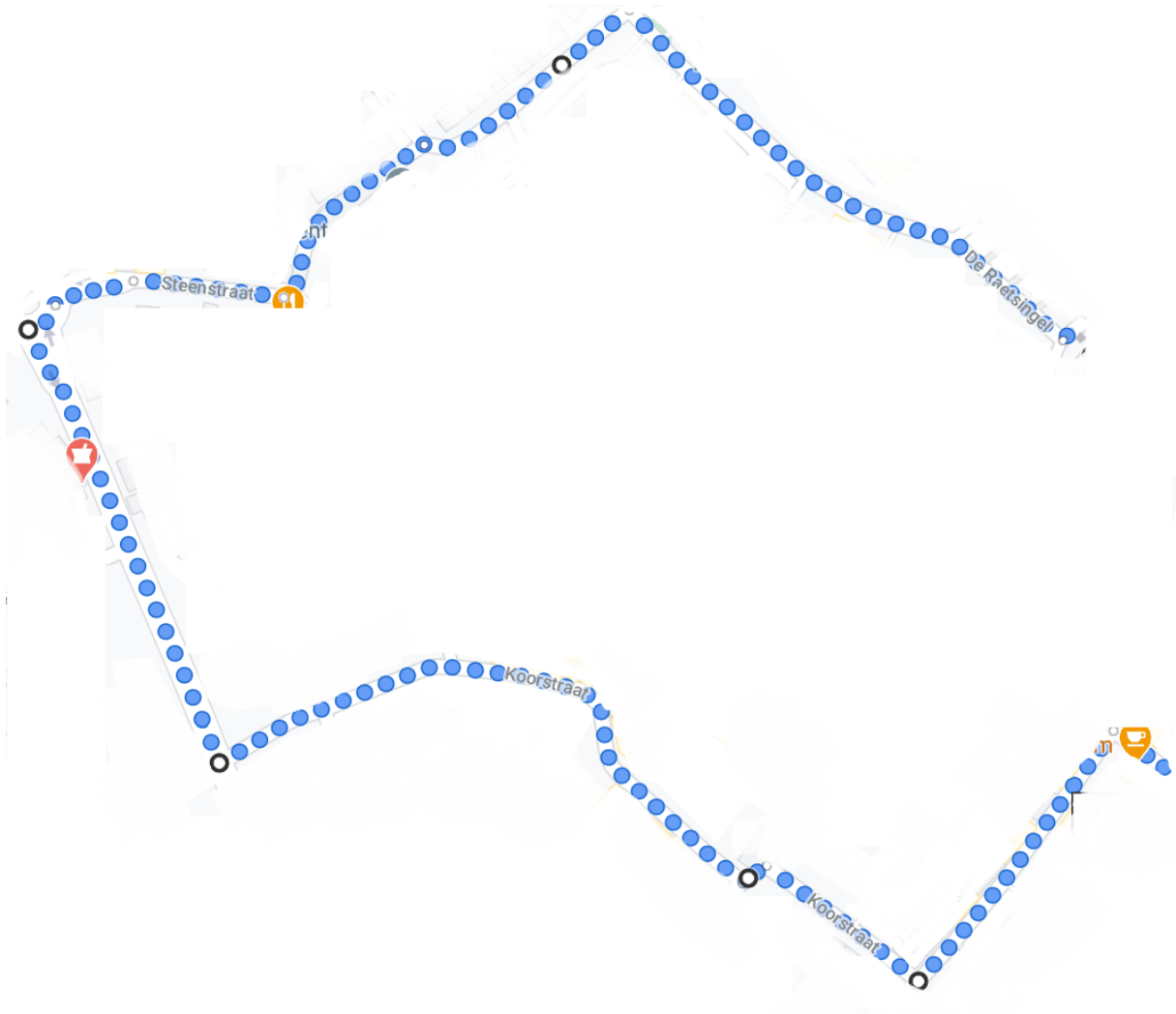
12. Loop door tot je niet verder kunt en geniet van het uitzicht op de Romeinse brug!

Krakers

CODE 2

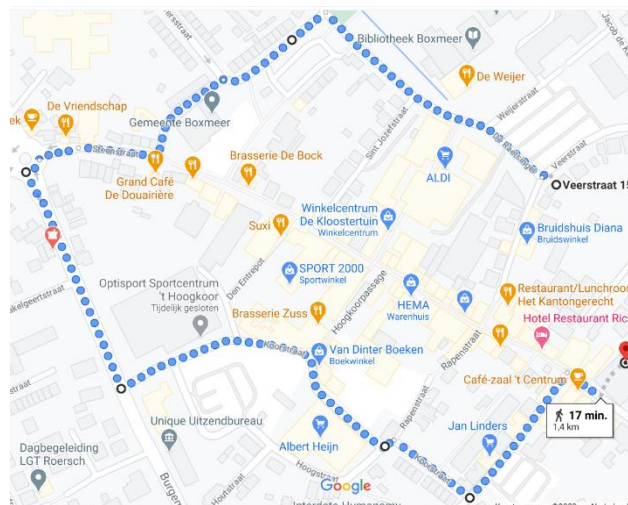
Ga naar dit startpunt en loop de route

51.648564569411185, 5.951766975287002



Over hoeveel zebrapaden kom je?

- Voor de Weijer
- Bruggetje park
- Gemeentehuis
- Scapino
- Lidl
- Hoogkoor
- Hoogkoor (2)
- Van Dinter
- Jan Linders



NEGEN (9)

CODE 3

Zoek dit startpunt in het dorp Sint Anthonis:



Vertrek in westelijke richting.



Bij welk restaurant eindigt de route?

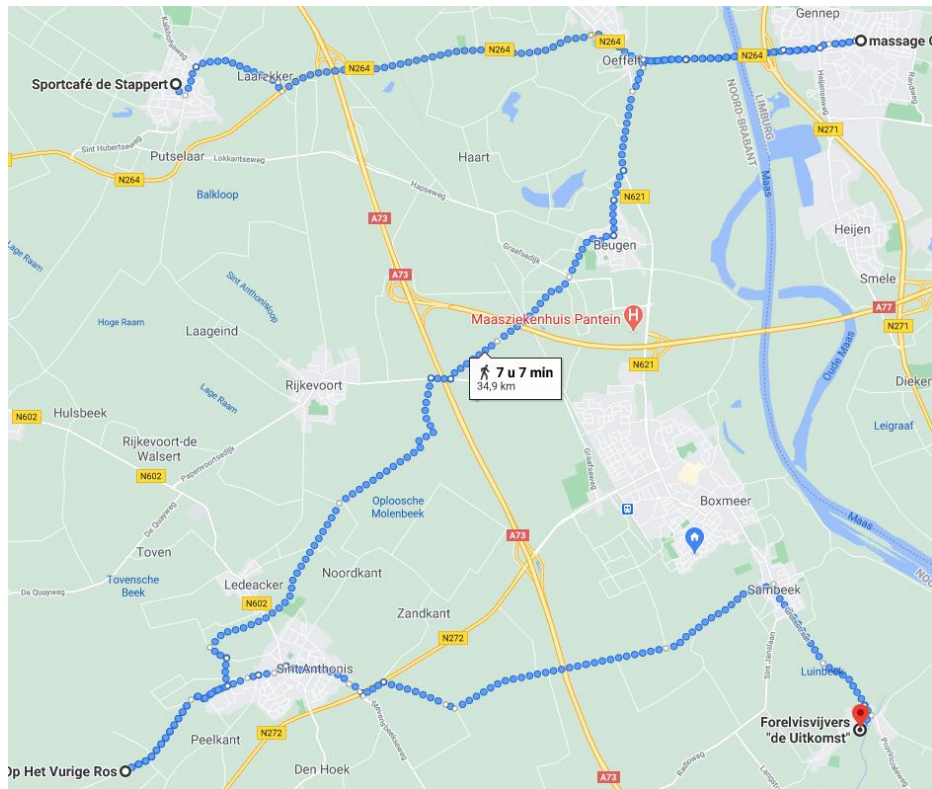
De Heksenboom

CODE 4

Welke letter lees je als je de volgende punten in Google Maps verbindt?

- Sprtcf d Stpprt
- Mssg Chwk
- B&B p ht vrg rs
- Frlsvjfr "D Utkmst"

Z



CODE 5

Start op dit punt:

51.59508552012413, 6.014156885720787

A: Hoeveel kilometer is het vanaf hier naar Boxmeer? **8**

Ga de weg in richting Boxmeer tot je Brood- en Banketbakker J. Ummenthun ziet.

B: Hoeveel kilometer is het vanaf hier naar Overloon? **5**

Vervolg de weg richting Boxmeer tot je Vierlingsbeek verlaat.

C: Hoeveel kilometer per uur mag je vanaf hier rijden? **60**

Vervolg de weg richting Boxmeer tot je in Groeningen komt.

D: Hoeveel rode kippen staan er links van je? **1**

Vervolg de weg richting Boxmeer tot je Jezus aan een kruis tegenkomt.

E: Hoeveel kilometer is het vanaf hier tot Venray? **12**

Code = ((A+B-D):E)×C = 60